

परिशिष्ट



प्रश्नपत्रिका

विद्यालयाचे नांव :-

विषय :- भूगोल

विद्यार्थ्याचे नांव :-

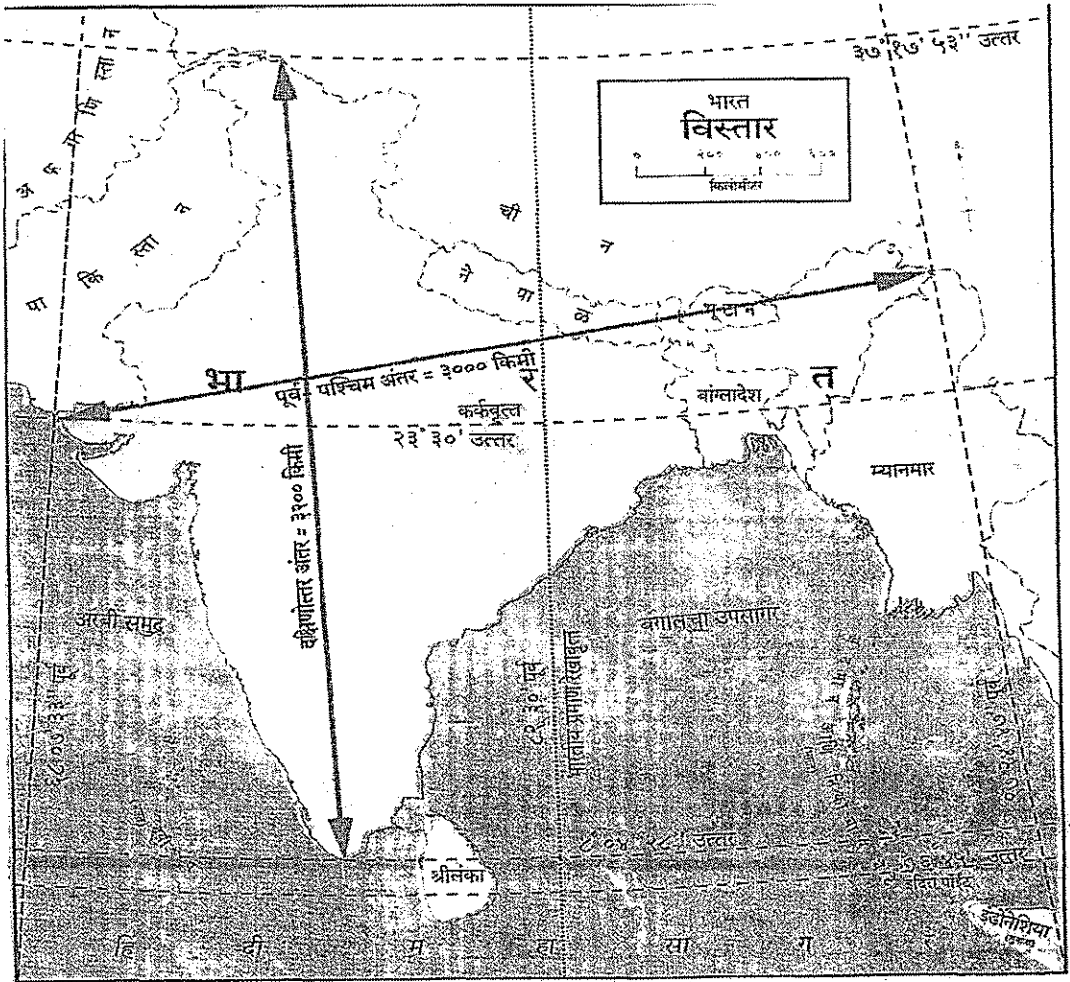
इयत्ता :- 9वी

हजेरी क्रमांक :-

एकूण गुण :- 50

सूचना :- प्रत्येक प्रश्नास एक गुण आहे.


प्र 1ला :- खालील नकाशाचे निरीक्षण करून पुढील प्रश्नांची उत्तरे लिहा.



- 1) $23^{\circ} 30'$ या अक्षवृत्तास वृत्त असे म्हणतात.

- 1) भारतामध्ये एकूण घटकराज्ये आणि संघराज्य आहेत.
- 2) भारत देशाची ही राजधानी आहे.
- 3) वरील नकाशाचे हे शीर्षक आणि हे उपशीर्षक आहेत.
- 4) भारताच्या पश्चिम दिशेला समुद्र आणि पुर्व दिशेला उपसागर आहे.
- 5) क्षेत्रफळाच्या दृष्टीने सर्वात लहान राज्य आणि सर्वात मोठे राज्य आहे.
- 6) अरुणाचल प्रदेशाची राजधानी ही आहे.

प्र 3रा :- खालील नकाशाचे निरिक्षण करुन पुढील प्रश्नांची उत्तरे लिहा.



आकृती ६.१ : भारत - मृदा प्रकार

- 1) झारखंड राज्यात प्रकारची मृदा आढळते.
- 2) महाराष्ट्र राज्यात प्रकारची मृदा आढळते.
- 3) जम्मू काश्मीर राज्यात प्रकारची मृदा आढळते.
- 4) वालुकामय मृदा राज्यात आहे.

प्र. 4था जोडया लावा.

अ गट	उत्तर	ब गट
1) रेल्वेमार्ग () 1)		
2) नदीप्रवाह () 2)		+++++
3) खाण () 3)		
4) शिबीर मैदान () 4)		→
5) लाटांची दिशा () 5)		•
6) वावटळ () 6)		
7) विजा () 7)		
8) गारा () 8)		ε
9) धुके () 9)		+
10) झरा () 10)		

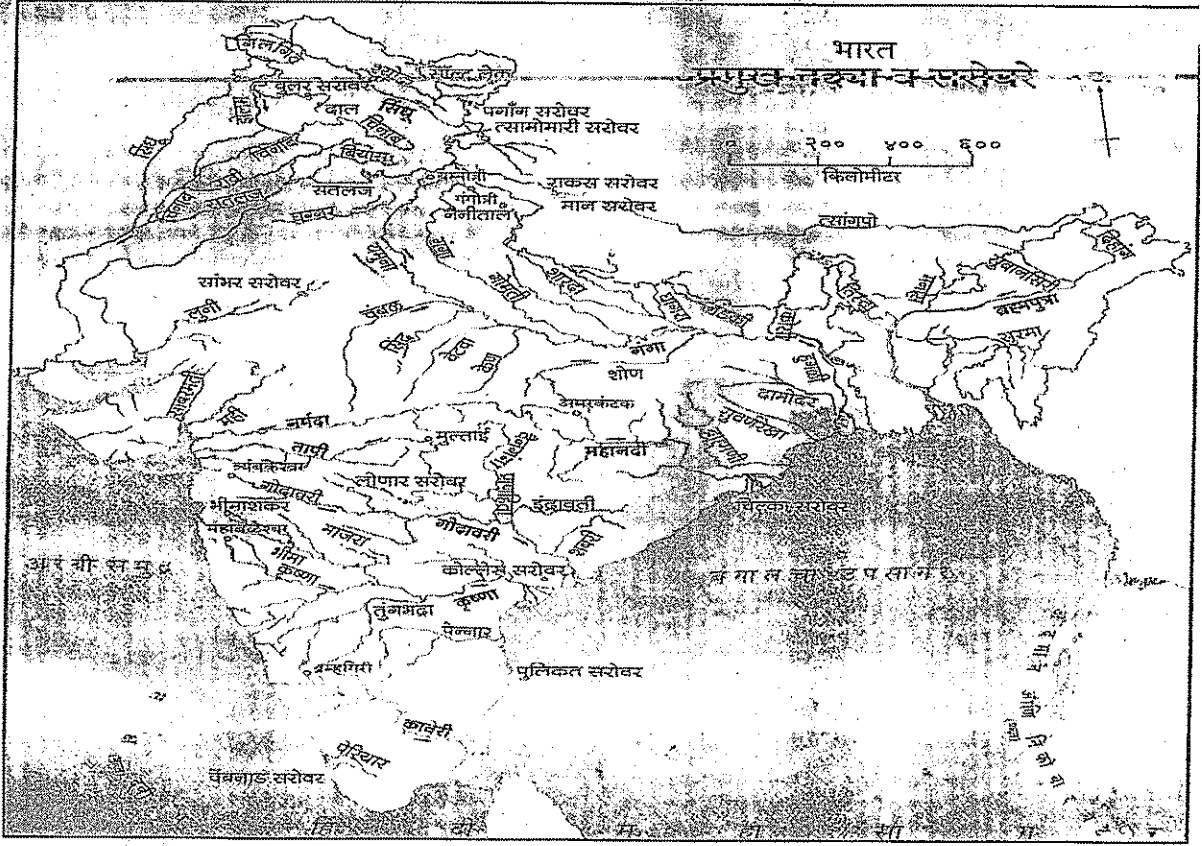
प्र 5वा वरील प्रश्न 1ला प्रश्न 2रा प्रश्न 3रा या नकाशाचे निरीक्षण करुन उत्तरे लिहा.

- 1) हिंदी महासागर भारताच्या कोणत्या दिशेला आहे ?
- 2) काली कापसाची मृदा कोणत्या मृदेला म्हणतात ?
- 3) भारतातील प्रमुख नद्याची नावे लिहा.
- 4) मृदा प्रकाराची नावे लिहा ?
- 5) मध्यप्रदेश राज्याची राजधानी कोणती ?

प्र 6वा जोड्या लावा.

अ गट	उत्तर	ब गट
1) महाराष्ट्र	()	1) जयपूर
2) मध्यप्रदेश	()	2) शिमला
3) गोवा	()	3) गांधीनगर
4) छत्तीसगढ	()	4) शिलाँग
5) गुजरात	()	5) पणजी
6) राजस्थान	()	6) भोपाळ
7) कर्नाटक	()	7) भुवनेश्वर
8) उडिसा	()	8) रायपुर
9) मेघालय	()	9) बंगळूर
10) हिमाचल प्रदेश	()	10) मुंबई

प्र 7वा वरील नकाशाचे निरीक्षण करून पुढील प्रश्नाची उत्तरे लिहा.



आकृती ३.१ : भारतातील नद्या व सरोवरे

- 1) गंगा नदीच्या कोणकोणत्या उपनद्या आहेत ?
- 2) सिंधु नदीच्या प्रमुख उपनद्या कोणत्या आहेत ?
- 3) राजस्थानमध्ये कोणते सरोवर आहे ?
- 4) नर्मदा नदी कोणत्या समुद्रास मिलते ?
- 5) कावेरी नदी कोणत्या उपसागरास मिलते ?
- 6) चिल्का सरोवर कोणत्या राज्यात आहे ?



प्र 8वा खालील घटक भारताच्या नकाशात दर्शवा.

- 1) भारत देशाची राजधानी

2) मध्यप्रदेश राज्य

3) श्रीलंका देश

4) केरल राज्य

5) गोवा राज्य

