

परिशिष्ट

❖ पूर्व परीक्षण

❖ पश्च परीक्षण

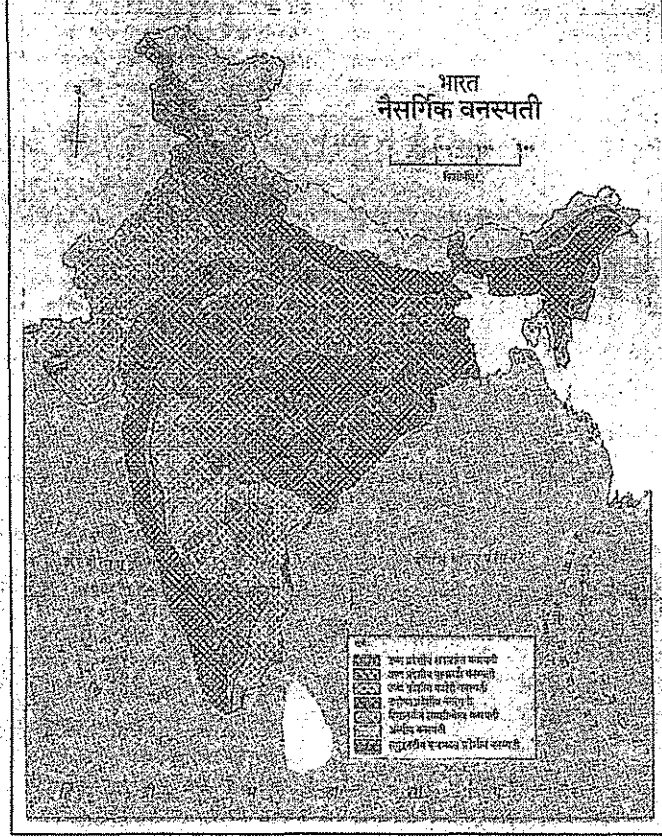
परिशिष्ट क्रमांक-1

विद्यालयाचे नाव _____
विद्यार्थ्याचे नाव _____
हजेरी क्रमांक - _____

इयत्ता 9वी
एकूण गुण- 25

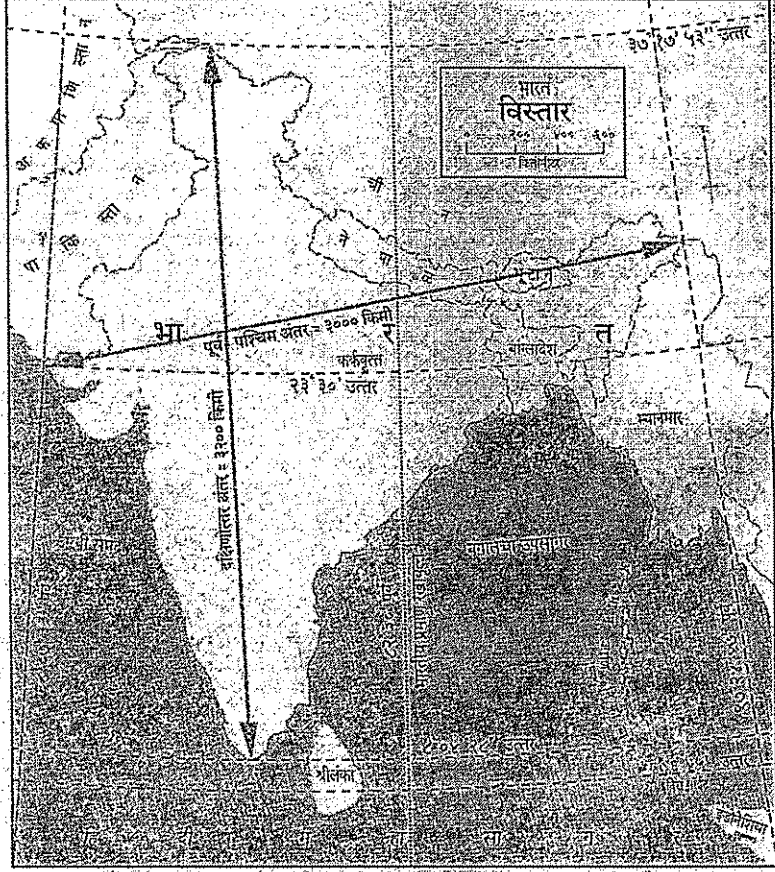
- प्रत्येक प्रश्नास एक गुण आहे.

खालील नकाशाचे निरीक्षण करून पुढील चार प्रश्नांची उत्तरे लिहा.



- प्र.1 खालील नकाशाचे शीर्षक _____ आहे
- प्र.2 महाराष्ट्राच्या उत्तर सीमेवर _____ राज्य आहे
- प्र.3 वरील नकाशात _____ नकाशा प्रमाणाचा वापर केला आहे
- प्र.4 भारताच्या दक्षिणेकडे _____ महासागर आहे

खालील नकाशाचे निरीक्षण करून पुढील चार प्रश्नांची उत्तरे लिहा.



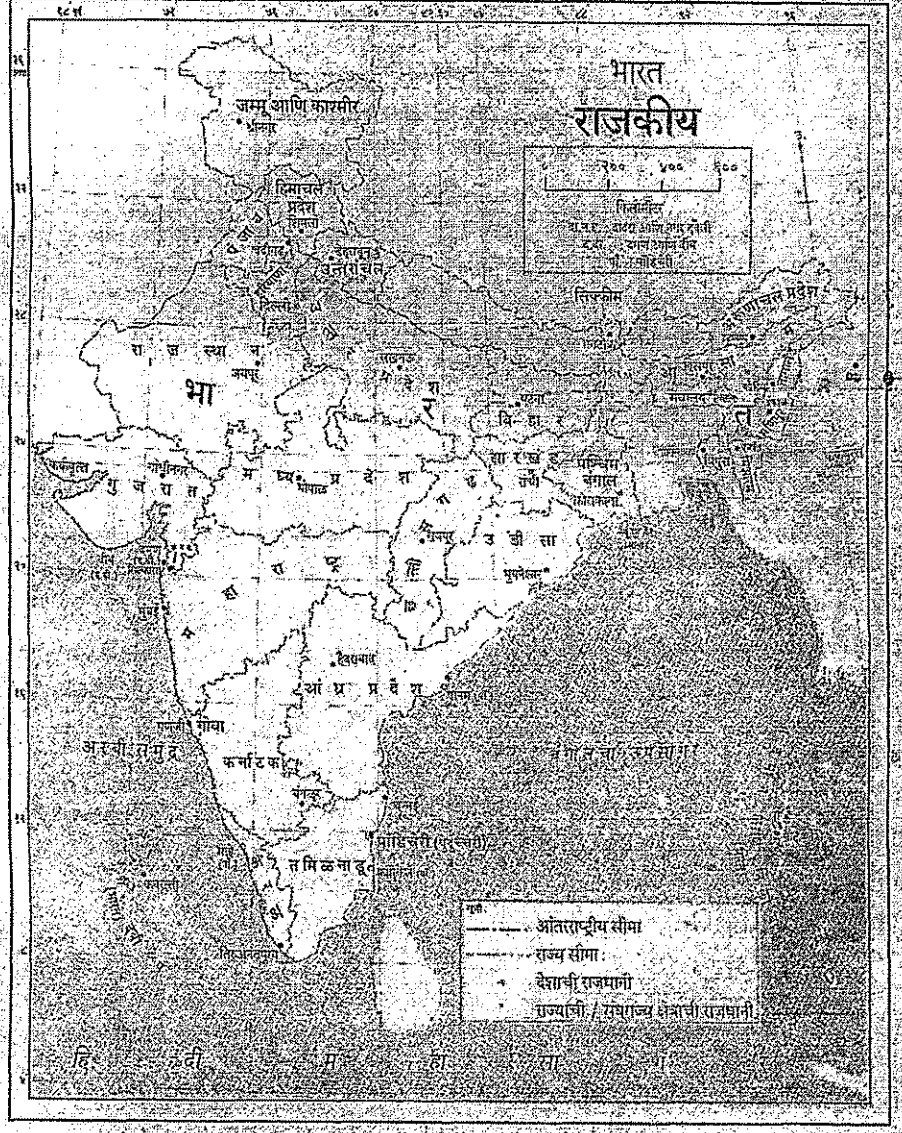
प्र.1 23 अंश 30' उत्तर अक्षवृत्ताला ----- म्हणतात.

प्र.2 भारताच्या पश्चिमेकडील रेखावृत्तीय विस्तार ----- पासून सुरु होतो.

प्र.3 भारताचा उत्तरेकडील विस्तार ----- पर्यंत आहे.

प्र.4 82 अंश 30'पूर्व हे एक ----- आहे.

खालील नकाशाचे निरीक्षण करून पुढील चार प्रश्नांची उत्तरे लिहा.



प्र.1 गोवा राज्याची राजधानी -----चिन्हाने दाखवली आहे ?

प्र.2 ----- खुनाने आंतरराष्ट्रीय सीमा दर्शवली आहे.

प्र.3 देशाची राजधानी दर्शवण्यासाठी ----- चिन्हाचा वापर केला आहे.

प्र.4 मुंबई ते पणजी शहरापर्यंतचे अंदाजे अंतर ----- किलोमिटर आहे.

वरील तिनही नकाशाचे निरीक्षण करून पुढील प्रश्नांची उत्तरे लिहा.

प्र.1 अरबी समुद्र भारताच्या कोणत्या दिशेला आहे.

प्र.2 मुंबई ते दमन अंतर अंदाजे किती आहे ?

प्र.3 हिंदी महासागर भारताच्या कोणत्या दिशेला आहे ?

प्र.4 97 अंश 24' 47" पूर्व हे कोणते वृत्त आहे ?

प्र.5 8 अंश उत्तर अक्षवृत्ताजवळील नकाशातील एक राज्य कोणते आहे ?

प्र.6 महाराष्ट्रात आढळणारे वनस्पती प्रकार कोणते आहे ?

प्र.7 गोवा राज्यात कोणत्या प्रकारच्या वनस्पती आढळतात ?

प्र.8 अल्पीय वनस्पती आढळणारे उत्तरेकडील राज्य कोणते ?

प्र.9 नकाशा 1 व 2 चे उपशीर्षक लिहा.

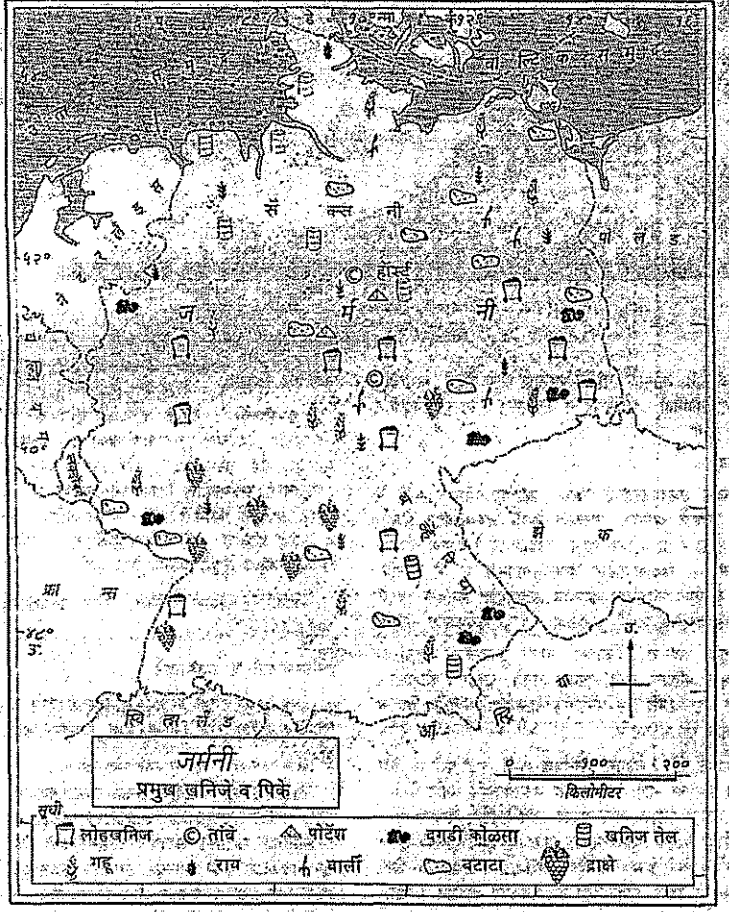
प्र.10 उष्ण प्रदेशीय सदाहरित वनस्पती नकाशात कोणत्या छायापद्धतीने दर्शवली आहे ?

जोड्या लावा

(3 गुण)

- | | |
|------------------|--------------------------|
| 1. उपशीर्षक | रेखावृत्त |
| 2. 7 अंश दक्षिण | सूचीतील माहितीशी संबंधित |
| 3. 96 अंश पश्चिम | अक्षवृत्त |
| | मकर वृत्त |
| | प्रदेशाशी संबंधित |

खालील नकाशाचे निरीक्षण करून पुढील पाच प्रश्नांची उत्तरे लिहा.



प्र.1) नकाशाचे शीर्षक व उपशीर्षक काय आहे ?

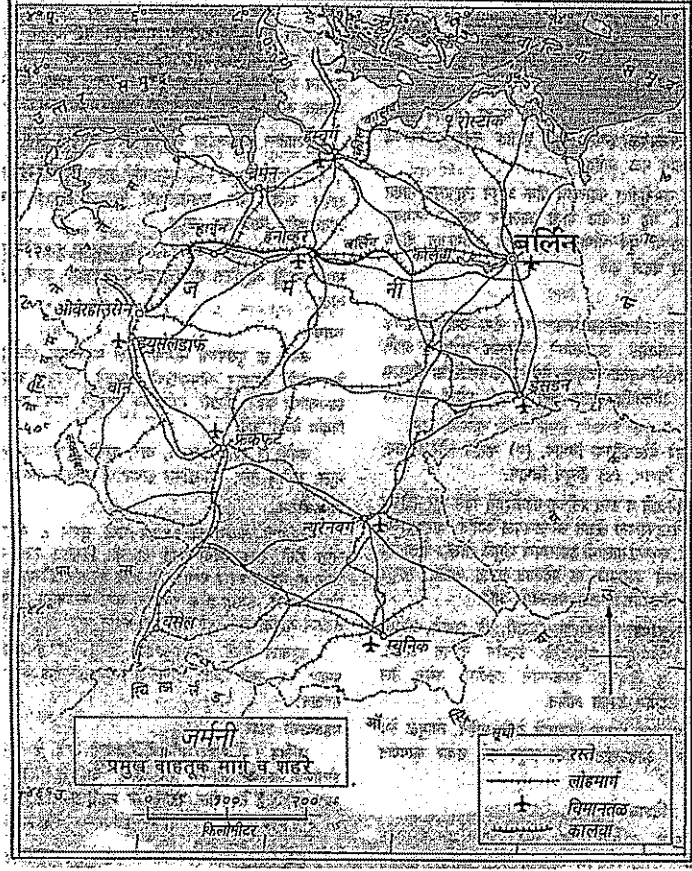
प्र.2) 52 अंश अक्षवृत्तावरील शहराचे नाव लिहा.

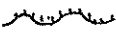
प्र.3) (C) हे चिन्ह नकाशात काय दर्शवते ?

प्र.4) खनिज तेलासाठी नकाशात कोणते चिन्ह वापरले आहे ?

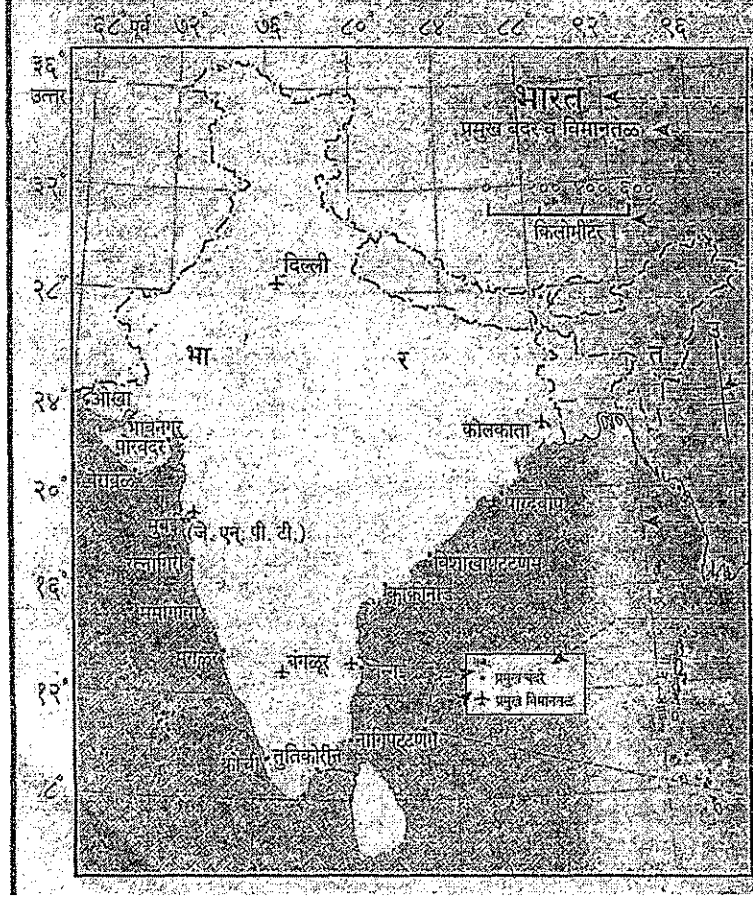
प्र.5) नकाशात सूची काय दर्शवते ?

खालील नकाशाचे निरीक्षण करून पुढील सात प्रश्नांची उत्तरे लिहा.



- प्र.1) नकाशाचे उपशीर्षक काय आहे ?
-
- प्र.2) 48 अंश अक्षवृत्तावरील विमानतळाचे नाव लिहा.
-
- प्र.3) ड्युसेलडॉर्फ शहराचे रेखावृत्त कोणते आहे ?
-
- प्र.4) बसेल शहरापासून म्युनिक शहरापर्यंतचे अंदाजे अंतर किती आहे ?
-
- प्र.5) फ्रँकफुर्ट ते न्युरेनबर्ग पर्यंतचे अंतर किती आहे ?
-
- प्र.6) जर्मनीतील सर्वात दक्षिणेकडील एक विमानतळ कोणते आहे ?
-
- प्र.7) नकाशात  चिन्ह काय दर्शवते ?
-

खालील नकाशाचे निरीक्षण करून पुढील पाच प्रश्नांची उत्तरे लिहा



- प्र.1) नकाशाचे उपशीर्षक काय आहे ?
-
- प्र.2) 28 अंश अक्षवृत्तावरील एका प्रमुख शहराचे नाव लिहा.
-
- प्र.3) मुंबई ते दिल्ली शहरापर्यंतचे अंदाजे अंतर लिहा.
-
- प्र.4) ओखा बंदर भारताच्या कोणत्या दिशेला आहे ?
-
- प्र.5) भारताच्या सर्वात दक्षिणेकडील एका बंदराचे नाव लिहा.
-

खालील प्रश्नांच्या आधारे नकाशात माहिती भरा.

- प्र.1) नकाशात मध्यप्रदेश राज्य दर्शवा व सूची करा.
- प्र.2) नकाशात मुंबई ते दिल्ली लोहमार्ग दर्शवा व सूची करा.
- प्र.3) मुंबई शहरालगत वस्ती दर्शवा.
- प्र.4) सूचीत टिंब पद्धतिचा वापर करून गुजरात राज्य दर्शवा.

